



**EVALUAREA COMPETENȚELOR FUNDAMENTALE
LA FINALUL CLASEI a II-a
2016**

Test 2

MATEMATICĂ

Județul / sectorul.....

Localitatea.....

Școala.....

Numele și prenumele elevei / elevului.....





.....

Clasa a II-a.....

Băiat

Fată

Elevii clasei a II-a vor să realizeze colajul „Toamna colorată”. Ei decupează diferite imagini pe care să le lipească apoi, pentru a realiza colajul. Numărul imaginilor decupate este scris în tabelul de mai jos.

			
Frunze 234	Copaci 141	Nori 91	Rândunele 182

1. Câte imagini cu **frunze** și **copaci** ați decupat în total? a întrebat doamna învățătoare.
Încercuiește litera corespunzătoare răspunsului corect.

- a) 141
- b) 234
- c) 375
- d) 385

Nu se completează de către elev
COD

1.

2. Mihaela compară numărul imaginilor cu **copaci** cu cel al imaginilor cu **frunze**.
Compară-le și tu!
Scrie, în caseta de mai jos, unul din semnele <, =, > pentru ca relația să fie corectă.


141 234

Nu se completează de către elev
COD

2.

5. Ioana și Alexandra decupează imaginile cu nori. Află câte imagini cu nori au decupat împreună cele două, știind că Ioana a decupat 5 coli a câte 4 imagini fiecare, iar Alexandra a decupat 5 coli a câte 6 imagini fiecare.

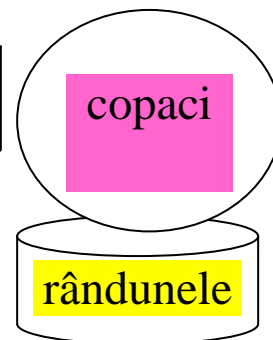
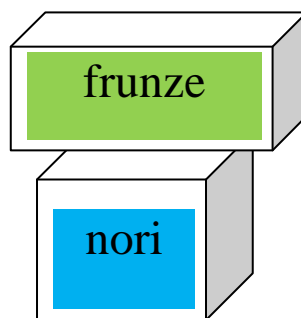
Scrive, pe spațiul dat, rezolvarea problemei.



Nu se completează de către elev
COD

5.

6. Pentru colaj, au fost decupate imagini, care au fost așezate în cutii diferite. Cutiile sunt așezate ca în imaginea alăturată.



Care dintre următoarele afirmații este adevărată?

Încercuiește litera corespunzătoare răspunsului corect.

- a) Cutia cu rândunele se află deasupra cutiei cu nori.
- b) Cutia cu nori se află dedesubtul cutiei cu frunze.
- c) Cutia cu frunze este în interiorul cutiei cu copaci.
- d) Cutia cu copacii se află dedesubtul cutiei cu rândunele.


Nu se completează de către elev
COD

6.

7. Copiii au așezat cele 25 de imagini decupate pentru colaj, în cutii de câte 5 bucăți fiecare. Câte cutii au folosit pentru imagini?

Află rezultatul prin scăderea repetată a aceluiași număr.

Scrie, pe spațiul dat, rezolvarea problemei.







Nu se completează de către elev
COD

7.

8. Pentru a calcula mai ușor numărul imaginilor decupate și aranjate de el, Ionuț le-a grupat ca în imaginea de mai jos. Câte imagini a decupat Ionuț?

Află rezultatul prin adunare repetată de termeni egali.

Scrie, pe spațiul dat, rezolvarea problemei.



Nu se completează de către elev
COD

8.

9. Copiii au decupat imaginile pentru colaj de la ora 10:00 până la ora 14:00.

Câte ore au lucrat ei pentru decuparea imaginilor?

Încercuiește litera corespunzătoare răspunsului corect.

- a) 2 ore
- b) 3 ore
- c) 4 ore
- d) 5 ore

Nu se completează de către elev
COD

9.

10. Imaginile decupate au fost aranjate respectând regula din șirul de mai jos.

Ce imagini urmează în șir?

Încercuiește litera corespunzătoare răspunsului corect.



a)



b)



c)



d)



Nu se completează de către elev
COD

10.

